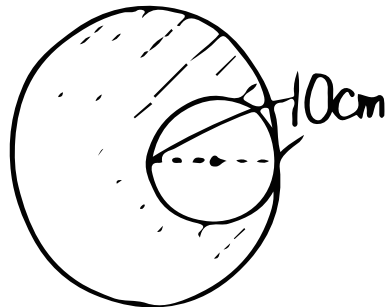


算数 (円の面積・応用編)

① 複雑な図形はパズルみたいに
① _____ にして考えよう!!

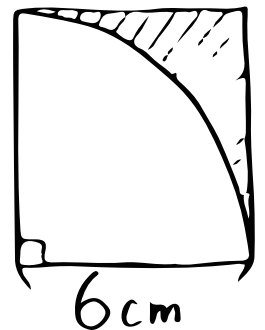
②  の部分の面積とまわりの長さをだそう!

② 面積



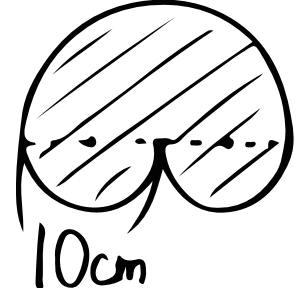
③ まわり

④ 面積




⑤ まわり

⑥ 面積



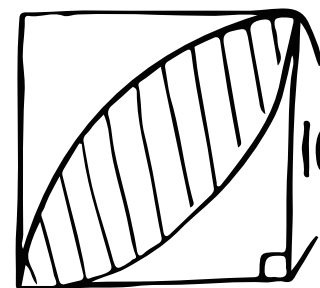
⑦ まわり

⑧ 面積



⑨ まわり

⑩ 面積



⑪ まわり

