

算数 (円の面積・基本編)

① 公式

円の面積 = ① _____ × ② _____ × ③ _____

円周 = ④ _____ × ⑤ _____

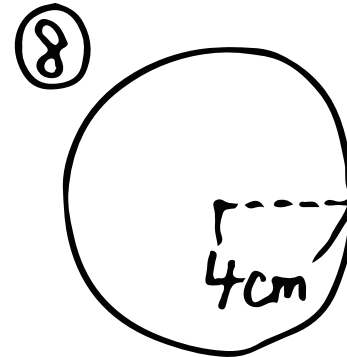
😊 面積をだそう!!

⑥ 半径の長さが3cmの円

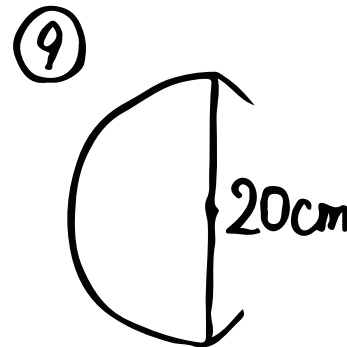
式

⑦ 直径の長さが10mの円


式



式



式



式