


# 算数 (角柱と円柱)

① 青の部分は② \_\_\_\_\_ で

そこが③ \_\_\_\_\_ 形だから、

右の立体は④ \_\_\_\_\_ というよ!



ちなみに赤の部分は⑤ \_\_\_\_\_ !!

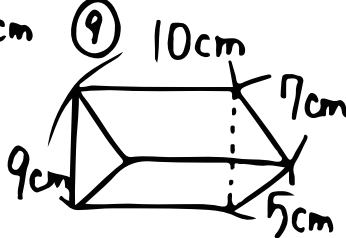

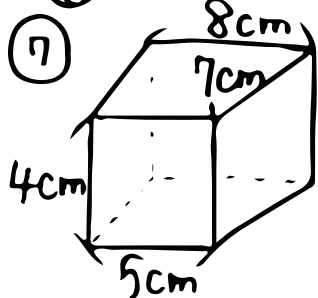
2つの①は、合同で⑥ \_\_\_\_\_ になって

いて、①と④はいつも⑦ \_\_\_\_\_ になっているよ!

☺ 表をうめよう!!

|      | 三角柱 | 四角柱 | 十角柱 |
|------|-----|-----|-----|
| 頂点の数 | ⑩   | ⑬   | ⑮   |
| 辺の数  | ⑪   | ⑭   | ⑰   |
| 面の数  | ⑫   | ⑮   | ⑱   |

☺ この子たちの名前と高さの長さを書こう!



こういう図のことを

⑱ \_\_\_\_\_ というんだ!

名 \_\_\_\_\_

名 \_\_\_\_\_

名 \_\_\_\_\_

高 \_\_\_\_\_

高 \_\_\_\_\_

高 \_\_\_\_\_

おまけ

円柱の側面みたいに  
平らじゃない面を⑳ \_\_\_\_\_ というよ。