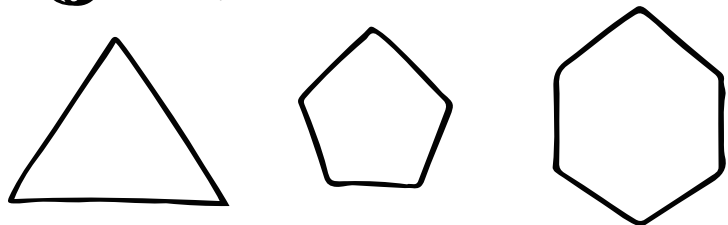


# 算数 (正多角形)

① \_\_\_\_\_ と ② \_\_\_\_\_ がみんな  
等しい多角形を正多角形っていうよ!

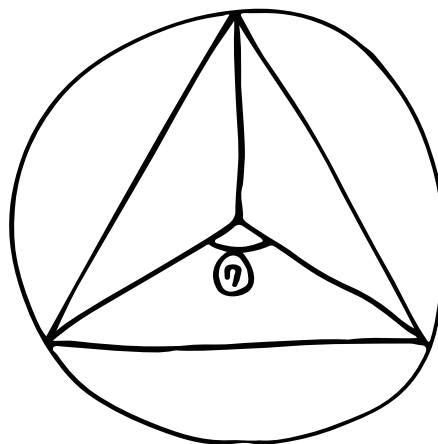
③ 名前は何なんだ?



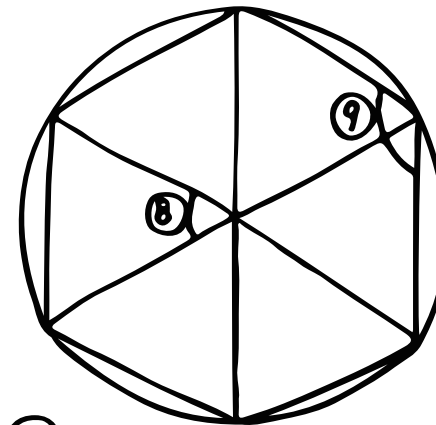
③ \_\_\_\_\_ ④ \_\_\_\_\_ ⑤ \_\_\_\_\_

中心のまわりの角度は  
⑥ \_\_\_\_\_ だよ!!

⑦ 角度は何度?



⑦



⑧

⑨

⑩ 正八角形を書こう!!

