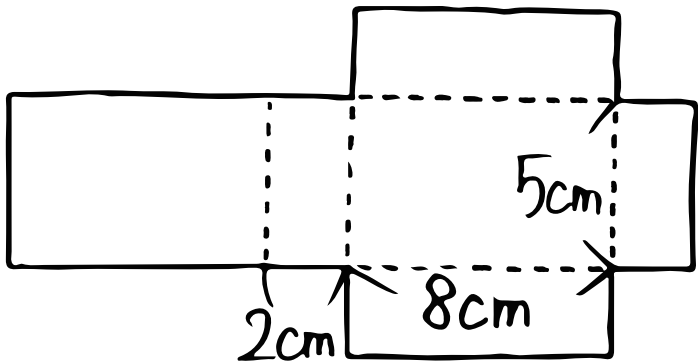
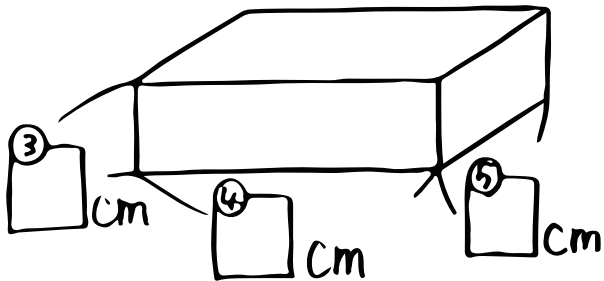


算数 (直方体や立方体の体積②) ⑥体積は何 cm^3 かな?

⑥

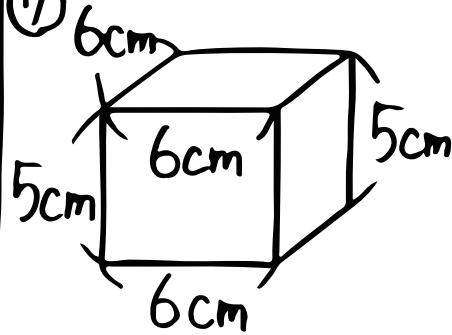


上のような図を① _____ といって
これを組み立てると② _____ ができる!



組み立てると、長さは③~⑤になるから、
体積は⑥ _____ になるね!

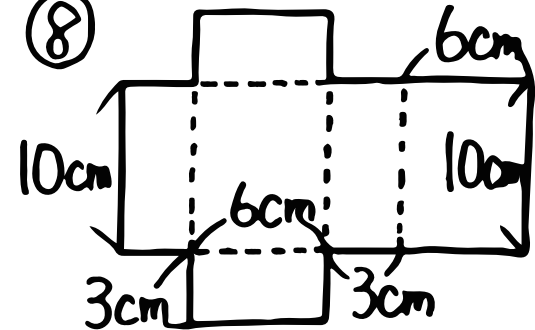
⑦



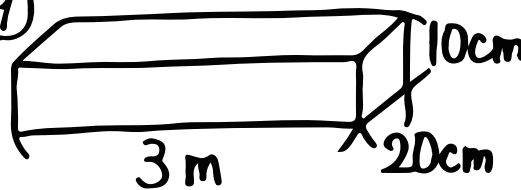
式

式

⑧



⑨



式

