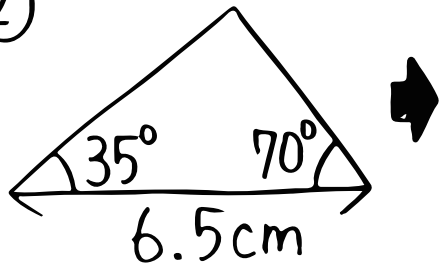


算数 (合同な図形②)

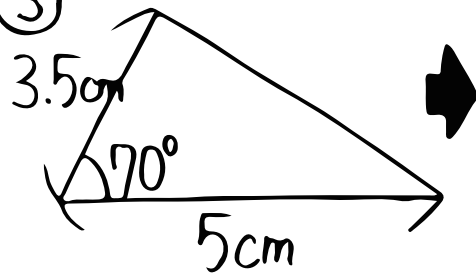
① コンパスの線は① _____ でね!!

② 図形を書こう!!

②

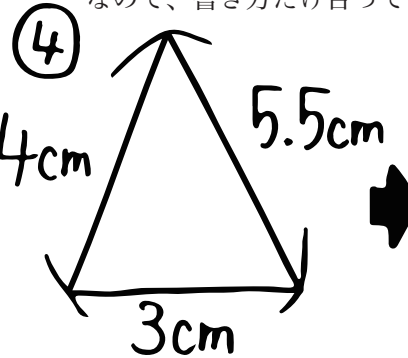


③



コンパス→青, 定規→赤

※(お願い) この三角形、きちんと書くと形がちがうものができます (^;) なので、書き方だけ合っているかをチェックしてください。



⑤

