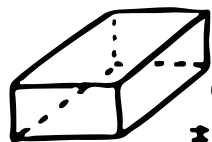


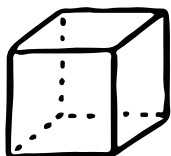
# 算数(箱の形を調べよう!)

ホ



のように①だけ、  
または①と②で

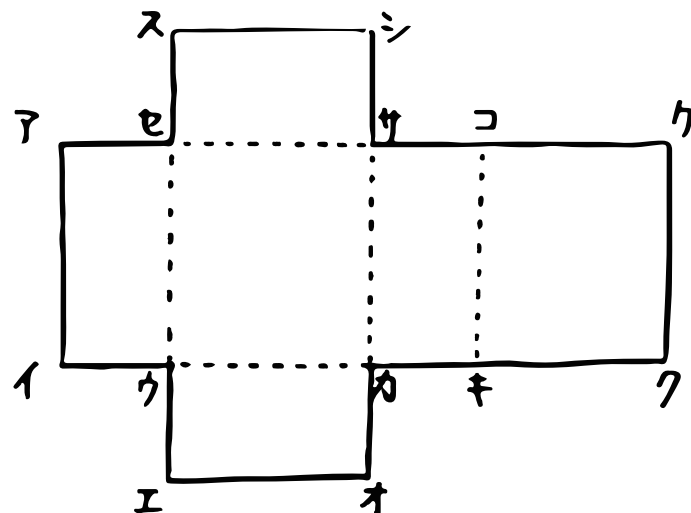
囲まれている形を③っていうよ!



のように④だけで

囲まれている形を⑤っていうよ!

そして、こういう図を⑥っていうんだ。



上のような図を⑥っていうよ!!  
もし、この図を組み立てると、点オと⑭が重なるよね。  
だから、辺エオと重なるのは⑮。  
ちなみに、点アと重なるのは、⑯と⑰で、  
辺アイと重なるのは、⑱だね!!

表を完成させよう!!

	頂点の数	面の数	辺の数
③	⑦	⑧	⑨
⑤	⑩	⑪	⑫

ホ 重なる場所に印を  
つけると分かりやすいよ!