


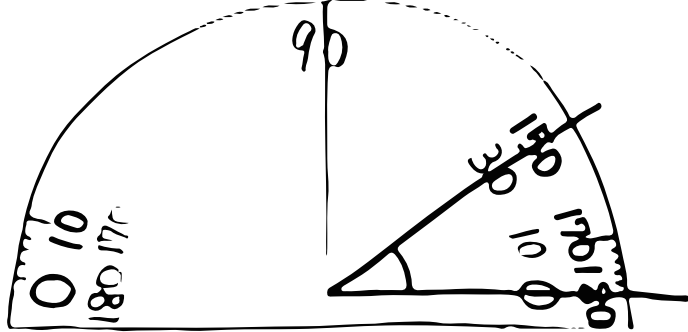
○ 算数 (角の大きさ②) ・分度器の使い方

💡 この角度は何度かな？

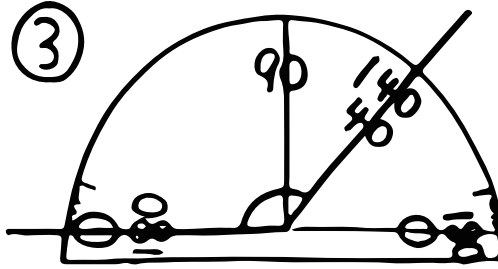
①



この角度をはかるなら...




この場合、①色の数字を見ればいから、角度は②°！



③ _____

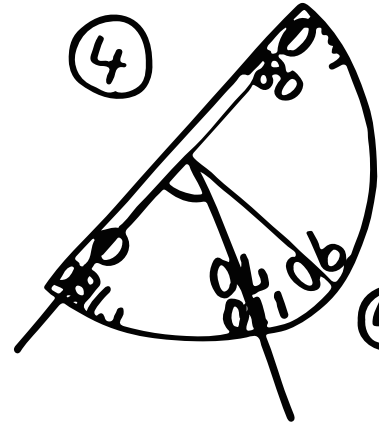
💡 どうやってはかる？

たし算




⑤の線(図に書こう)をひいて、
⑥の角度(図に)をはかると、
それに⑦をたせばいい！

④



④ _____

ひき算



⑧の角度(図に)をはかると、⑨からそれをひけばいい！！