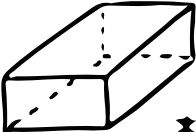
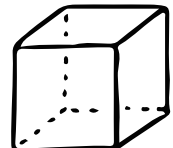
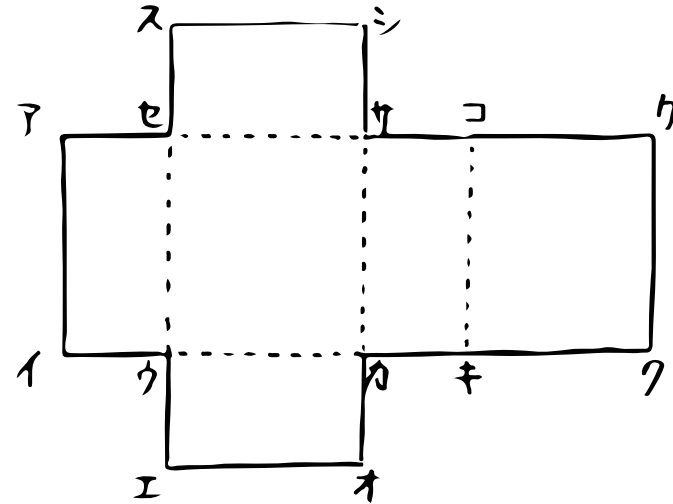


算数 (箱の形を調べよう)

①  のように① _____ だけ、
 または①と② _____ で
 囲まれている形を③ _____ っていうよ！

 のように④ _____ だけで
 囲まれている形を⑤ _____ っていうよ！
 そして、こういう図を⑥ _____ っていうんだ。




上のような図を⑦ _____ っていうよ！！
 もし、この図を組み立てると、点オと⑧ _____ が重なるよね。
 だから、辺エオと重なるのは⑨ _____ 。

ちなみに、点アと重なるのは、⑩ _____ と⑪ _____ で、
 辺アイと重なるのは、⑫ _____ だね！！

💡 表を完成させよう！！

	頂点の数	面の数	辺の数
③ _____	⑦	⑧	⑨
⑤ _____	⑩	⑪	⑫

①  重なる場所に印を
 つけると分かりやすいよ！