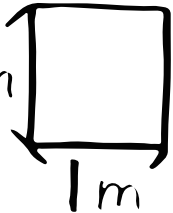
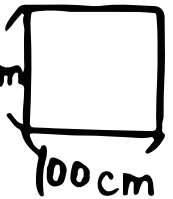
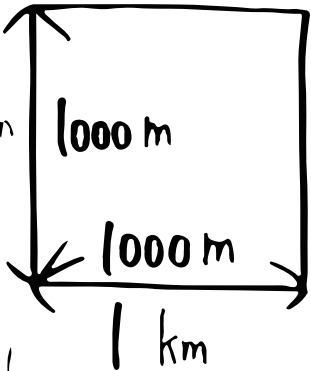


算数 (大きな面積の単位)

①  の正方形を ① _____ て書いて、
② _____ て読めよ。

 だから...
①と③ _____ cm^2 は同じになる。

 の正方形を $1 km^2$ て書けよ。
 $1 km^2$ は ④ _____ m^2 と同じよ。

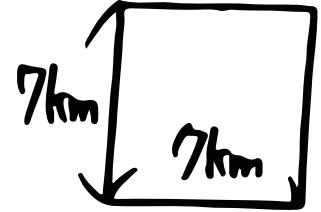
ちなみに...

$1 a =$ ⑤ _____ m^2
 $1 ha =$ ⑥ _____ m^2
 $1 ha =$ ⑦ _____ a だよ。

面積をだそう!!



⑧



⑨

どの単位がいいかな?

校庭の面積 ... 754 _____ ⑩
 埼玉県の 3797 _____ ⑪
 勉強がくえ 2200 _____ ⑫

単位をかえろ!!

$5 m^2 =$ ⑬ _____ cm^2
 $7000000 m^2 =$ ⑭ _____ km^2
 $90000 m^2 =$ ⑮ _____ ha