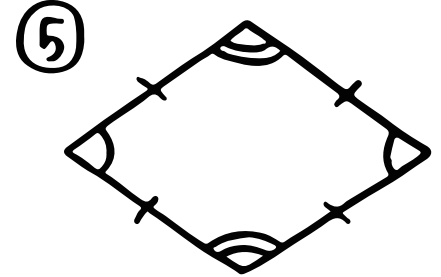
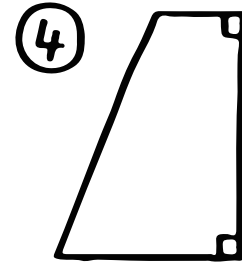
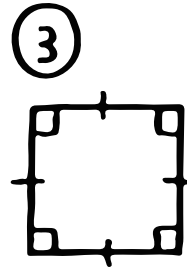
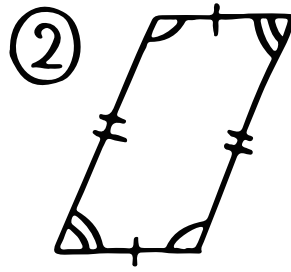
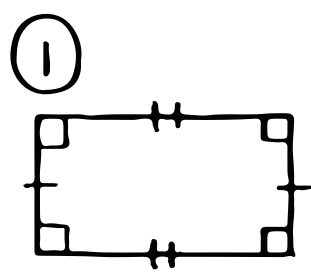


算数 (四角形の特ちょう)

出場選手



特ちょう \ 名前	①	②	③	④	⑤
4つの角がすべて直角					
4つの辺の長さがすべて同じ					
向かいあった2組の辺が平行					
2本の対角線が垂直					
2本の対角線の長さが同じ					

↑ ⑥ 当てはまるところに○をつけよう!!