

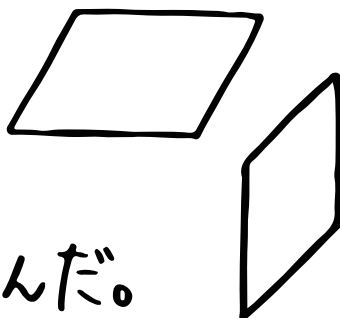
# 算数 (いろいろな四角形①)

① 右の四角形は、

向かいあった①組の

辺が②になっているんだ。

この形の名前は③！

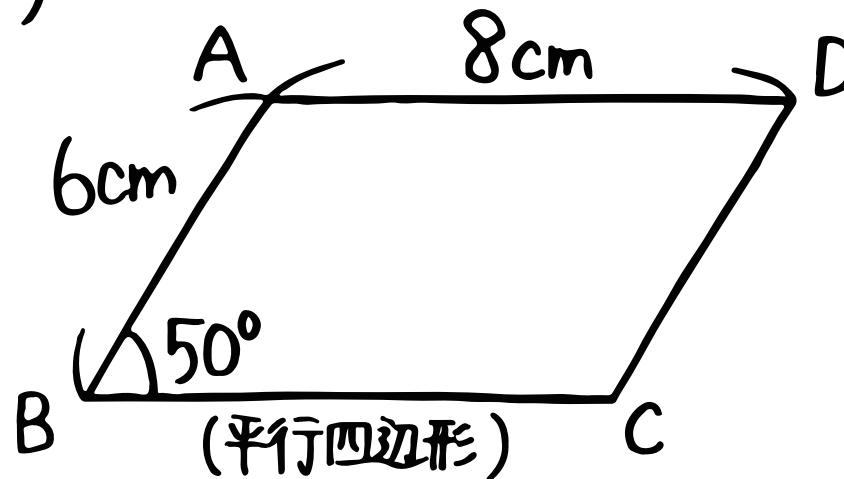
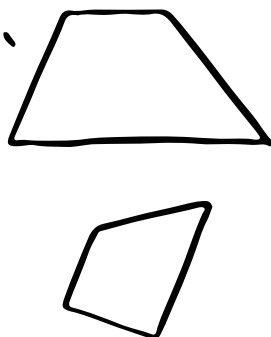


あと、右の四角形みたいに、

向かいあった④組の

辺が⑤になっている

形を⑥っていうんだ！



辺BCの長さ... ⑦ cm

辺CDの長さ... ⑧ cm

角Dの大きさ... ⑨

角Cの大きさ... ⑩