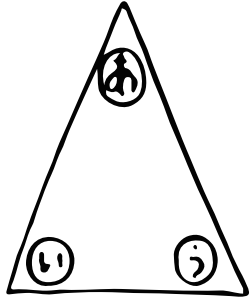


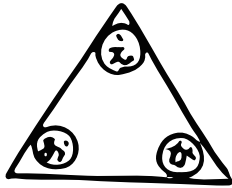
# 算数 (二等辺三角形と正三角形の角)

④ 二等辺三角形



角の大きさが同じなのは ① \_\_\_\_\_

正三角形

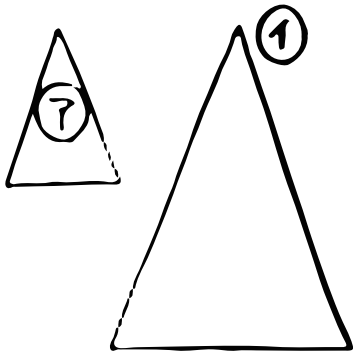


角の大きさが同じなのは ② \_\_\_\_\_

⑦の二等辺三角形を

③ \_\_\_\_\_ まいしつめると

①の二等辺三角形になるね!!



⑤ を半分において にします。

これをチョキチョキ切って開くとどんな形になる?

