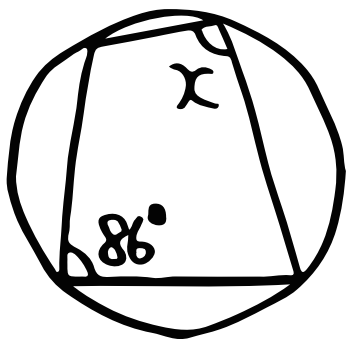


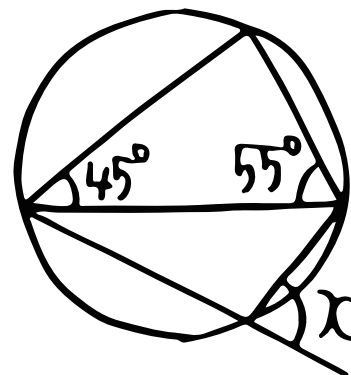
数A(円に内接する四角形①)

下の図で、 $\angle X$ の大きさを求めよう。

①




②

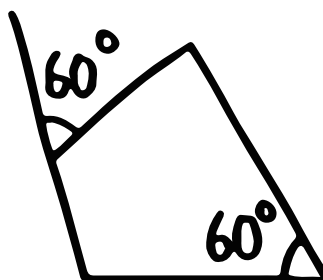


③ 次の四角形ABCDのうち、円に内接するものはどれか。

I



II



III

