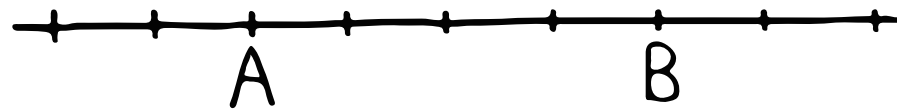


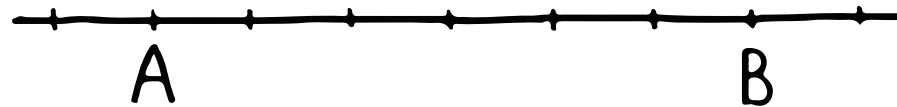
## 数A(内分と外分①)

👀 線分ABにおいて、次の点を記入しよう。

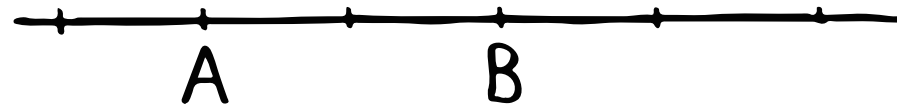
① 3:1に内分する点P



② 1:2に内分する点Q



③ 3:1に外分する点R



④ 1:4に外分する点S

