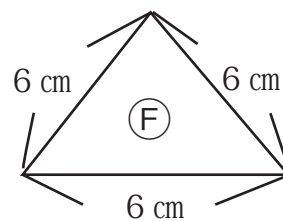
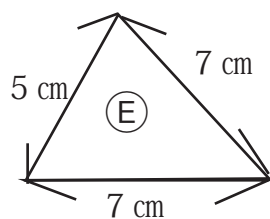
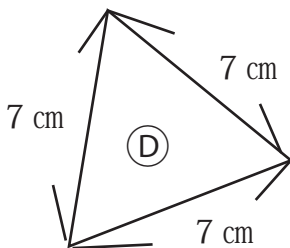
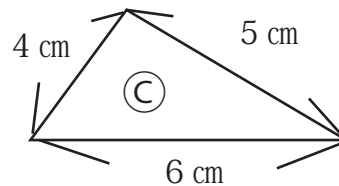
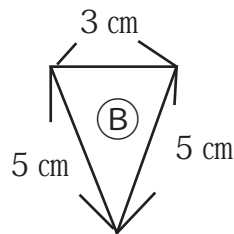
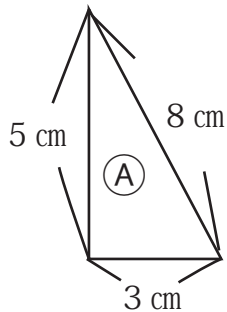


☆どの三角形かな？

- ① 辺の長さが 7 cm、4 cm、7 cm の三角形。
 ② 4 cm のひごで 3 本できる三角形。
 ③ 辺の長さが 5 cm、5 cm、5 cm の三角形。
 ④ 9 cm のひご 1 本、6 cm のひご 2 本でできている三角形。
 ⑤ 辺の長さが 4 cm、6 cm、6 cm の三角形。
 ⑥ 辺の長さが 8 cm、8 cm、8 cm の三角形。
 ⑦ 辺の長さが 2 cm、2 cm、2 cm の三角形。
 ⑧ 辺の長さが 6 cm、9 cm、9 cm の三角形。
 ⑨ 6 cm のひごで 3 本でできている三角形。

- ① 二等辺三角形
 ② 正三角形
 ③ 正三角形
 ④ 二等辺三角形
 ⑤ 二等辺三角形
 ⑥ 正三角形
 ⑦ 正三角形
 ⑧ 二等辺三角形
 ⑨ 正三角形



- ⑩ 上の三角形より二等辺三角形を記号で選んでね！
 ⑪ 上の三角形より正三角形を記号で選んでね！

- ⑩ (B)(E)
 ⑪ (D)(F)