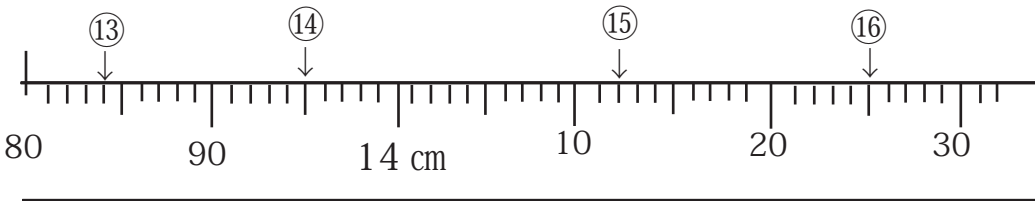
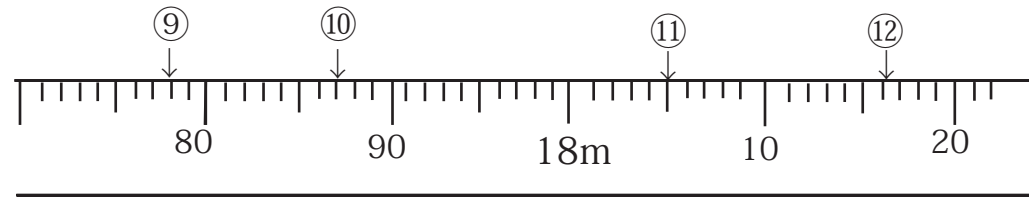
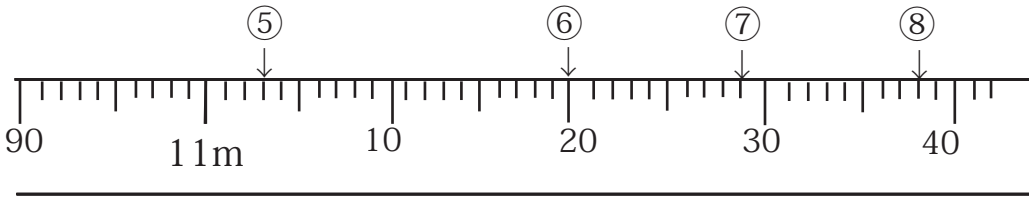
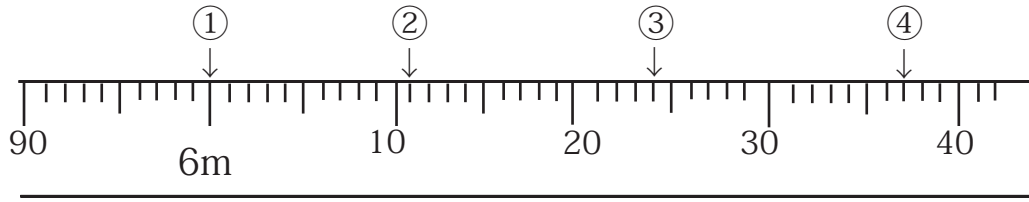


☆まきじゃくのめもりはいくつ



☆どれではかったらいいかな？

- A 30 cm ものさし
- B 1 m ものさし
- C まきじゃく

- ⑰ ふでばこのたての長さ
- ⑱ 教室のよこの長さ
- ⑲ つくえのたかさ
- ⑳ 腰のまわりの長さ

- ① 6 m
- ② 6 m 11 cm
- ③ 6 m 24 cm
- ④ 6 m 37 cm
- ⑤ 11 m 3 cm
- ⑥ 11 m 20 cm
- ⑦ 11 m 29 cm
- ⑧ 11 m 38 cm
- ⑨ 17 m 78 cm
- ⑩ 17 m 87 cm
- ⑪ 18 m 5 cm
- ⑫ 18 m 16 cm
- ⑬ 13 cm 84 mm
- ⑭ 13 cm 95 mm
- ⑮ 14 cm 12 mm
- ⑯ 14 cm 25 mm

- ⑰ A 30 cm ものさし
- ⑱ C まきじゃく
- ⑲ B 1 m ものさし
- ⑳ C まきじゃく