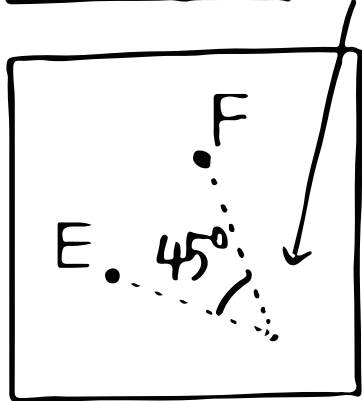




理科 (星の1日の動き)



星も太陽と同じく、地球の①_____のせいで、
 1日に1回地球のまわりを回るように見える。
 これを②_____っていうんだよね！そして、星は
 1時間に③_____°ずつ④_____から⑤_____に移動している
 ように見えるんだよ。

①A~④Dはそれぞれ、①A...⑥_____の空、②B...⑦_____の空、
 ③C...⑧_____の空、④D...⑨_____の空で、⑤Dは⑩_____を中心
 に⑪_____まわりに動いているんだ！そして、8月13日の
 22時にFにいた星がEにいるのは⑫_____月 日 時だね！