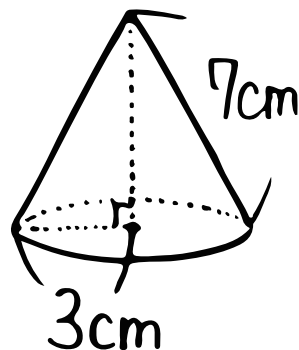
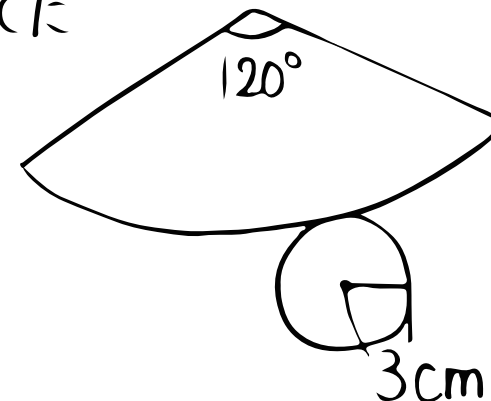


数学(三平方・空間図形への利用③・円錐編)

① 右の円錐の体積は?

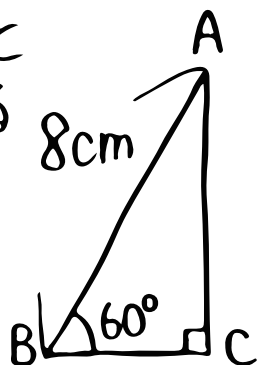


② 右の展開図を組み立てたときにできる立体についてもとめよう!



③ 高さは何?

② 直線ACを回転の軸として一回転させてできる立体の体積は?



④ 体積は?

