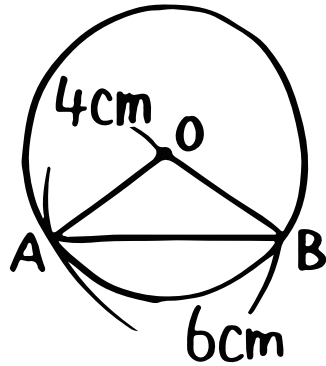
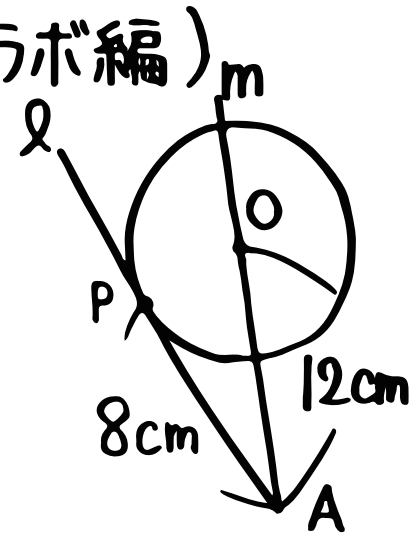


数学(三平方・平面図形への利用③・円とのコラボ編)

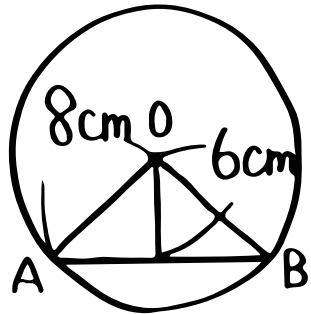
① 中心Oから弦AB
までの距離は?



③ ㄱが円Oの接線の時、
円Oの半径は?



② 弦ABの長さは?



④ ㄱが円Oの接線の時、APの長さは?

