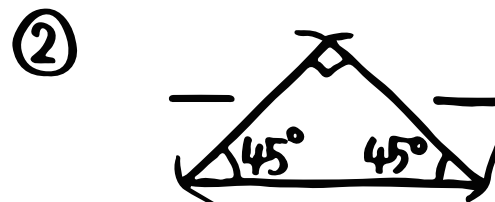
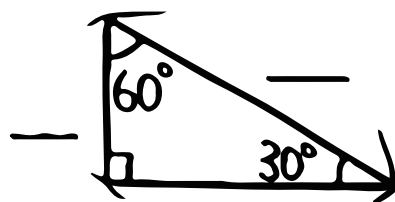
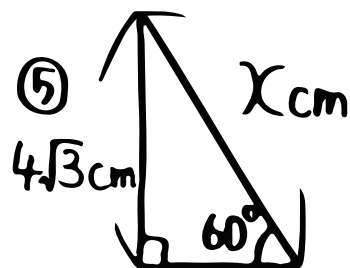
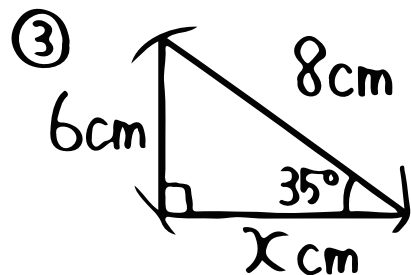


数学(三平方・平面図形への利用①・基本編)

① 三角定規の辺の比
は暗記しておこう!



② xの値をもとめよう!(③~⑤)



③ 1辺の長さが6cmの正三角形の面積は?

④

