
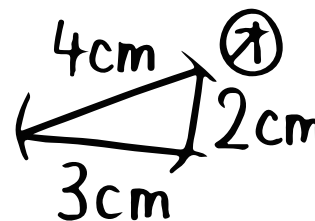
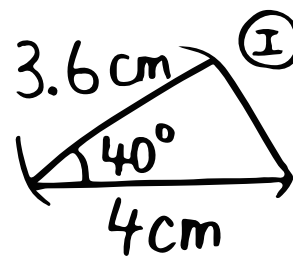
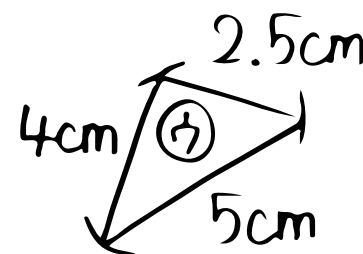

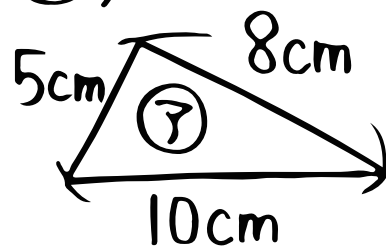


数学 (三角形の相似条件①)

⑥ 相似条件は3つ!

- ① ① _____ が ② _____ 等しい。
- ② ③ _____ と ④ _____ が
それぞれ等しい。
- ③ ⑤ _____ がそれぞれ等しい。



⑥ ⑦~⑫の中から、相似な組を探して、条件を①~③からえらぼう!

