
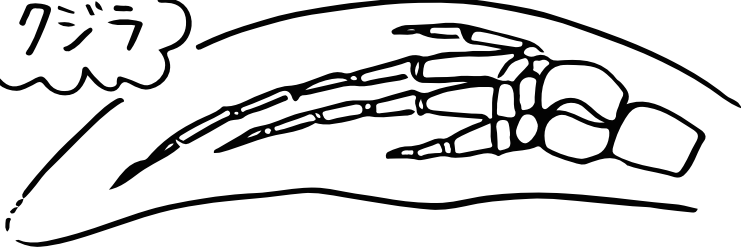


理科 (進化の証拠) コウモリ

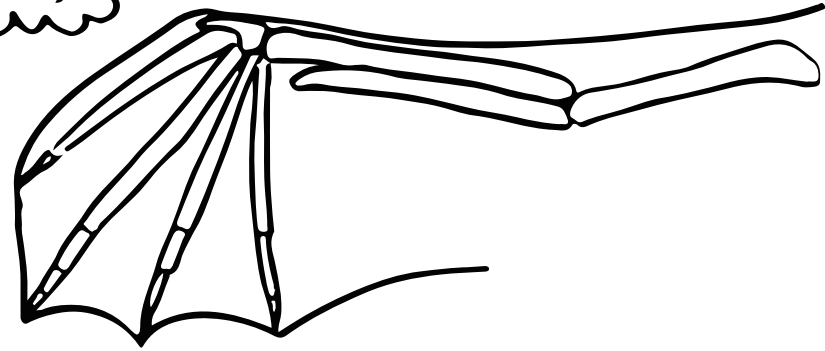

ヒト



クジラ



A



ヒトのうで、クジラの①____、コウモリの②____
 又の③____は、それぞれはたつきはちがうけど、
 基本的なつくりは同じでもとは同じ器官だったと
 考えられる。これを④____という。
 Aは、1億5000万年前の地層から発見された⑤____
 の復元図。こいつは⑥____類と⑦____類の特徴を
 持っていたんだ。だから、つばさの中に⑧____があったし、
 ⑨____が生えていたんだよ！