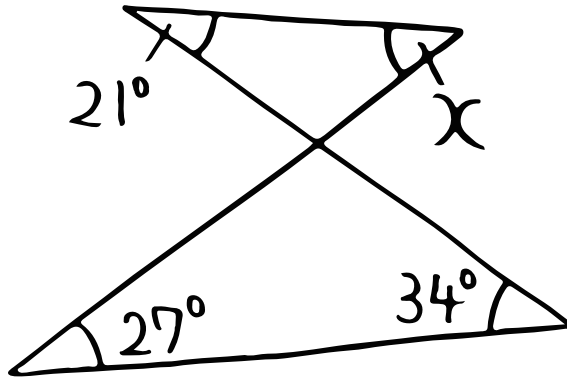


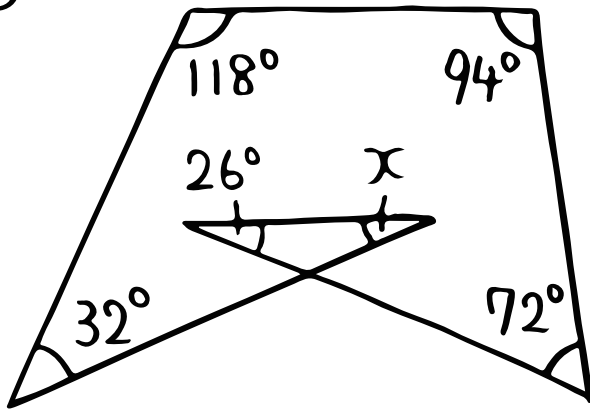
# 数学(角度チャレンジ・Lv.2)

⑥  $\angle X$ 、 $\angle Y$ の大きさを求めよう!

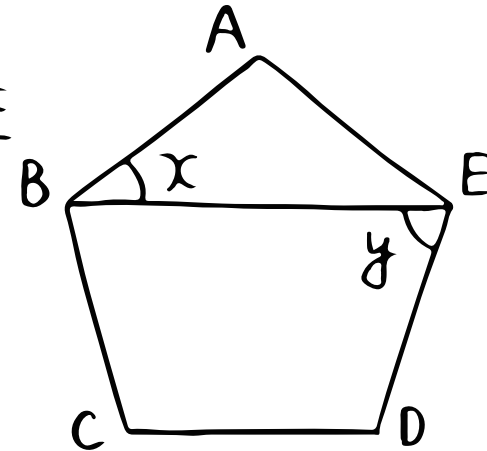
①



②



③ 正五角形ABCDE



④  $AB \parallel CD$ ,  $\angle BPQ$ の二等分線と $\angle DQP$ の二等分線の交点をRとする。

