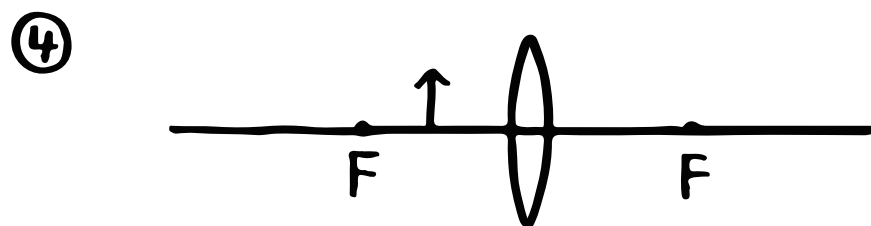

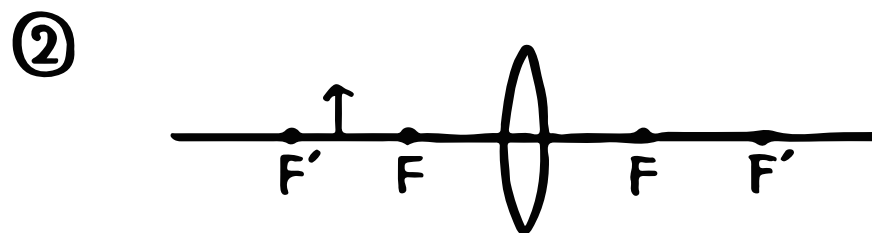
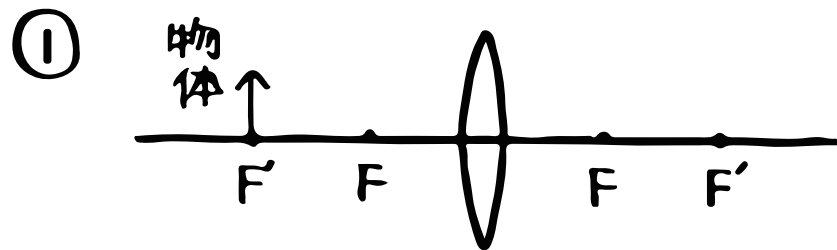


# 理科 ( 2種類の像②・作図編 )

⑥ 光の進み方を書いて、像を作図しよう! (Fは焦点・F'は焦点距離の2倍)



⑤ Pと書いてある透明なカードに光を当てたとき、③と④の場合、どのような像になる?

カード  
P

③のとき

④のとき