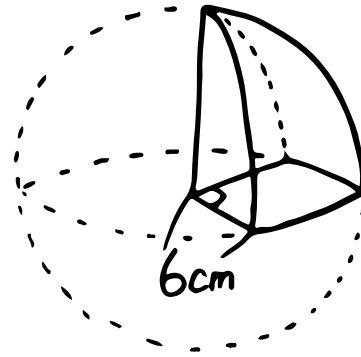
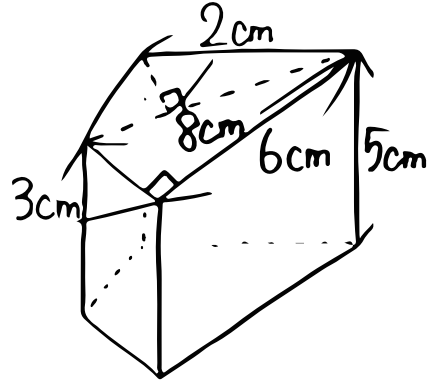


数学 (体積・表面積チャレンジ) ③ これは体積と表面積

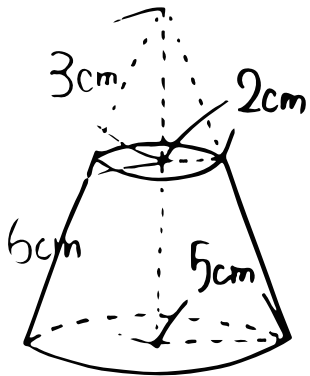
① この図の体積!



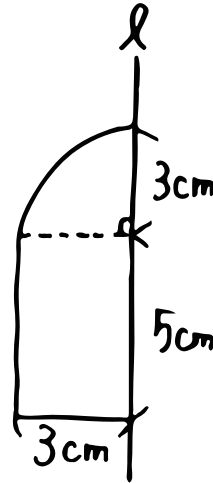
体

表

② 次の体積!!



④ 直線ℓを回転の軸として、1回転させて
できる立体の体積と表面積をだそう!!



体

表

