



数学(円とおうぎ形の性質②・作図編)

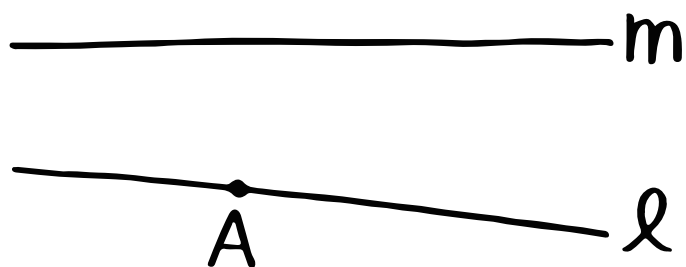
①点Aが接点となるように
接線ℓを作図しよう!



③割れた円形の皿の
中心Oを作図しよう!



②中心が直線m上にあって、点Aで
直線ℓに接する円を作図しよう!



④点Aで直線OXに接して、
かつ直線OYにも接する円を作図しよう!

