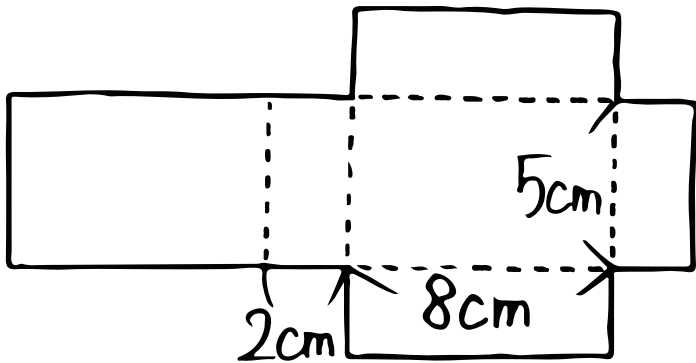
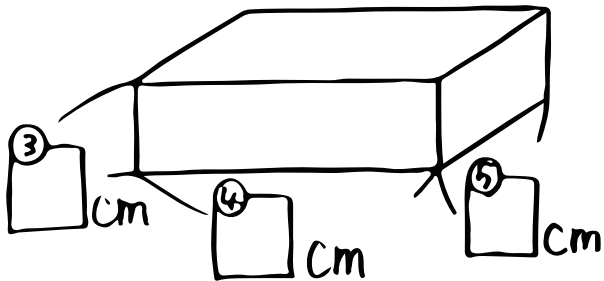


算数 (直方体や立方体の体積②) ⑥体積は何 $\text{cm}^3$ かな?

⑥

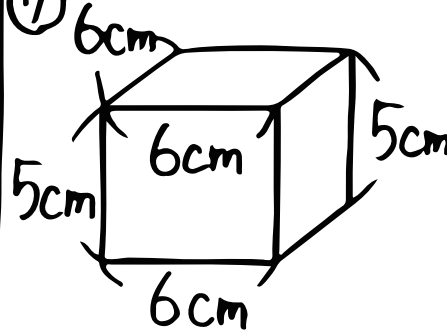


上のような図を① \_\_\_\_\_ といって  
これを組み立てると② \_\_\_\_\_ ができる!



組み立てると、長さは③~⑤になるから、  
体積は⑥ \_\_\_\_\_ になるね!

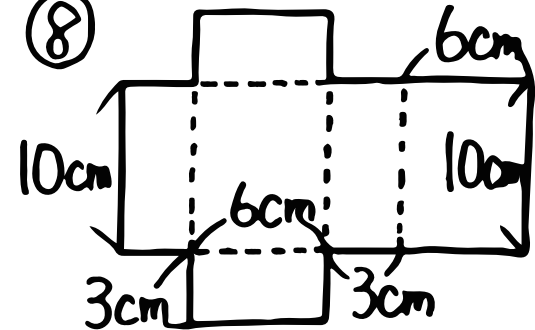
⑦



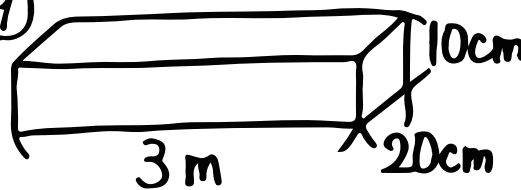
式

式

⑧



⑨



式

