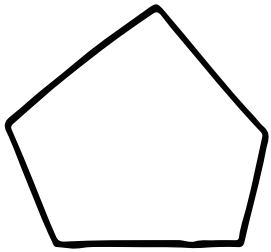


# 算数(多角形の角)

① 直線で囲まれた図形を① \_\_\_\_\_ っていうんだ!

② 次の図形の名前と角の大きさの和を書こう!

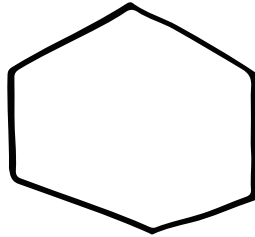
②



名 \_\_\_\_\_

和 \_\_\_\_\_

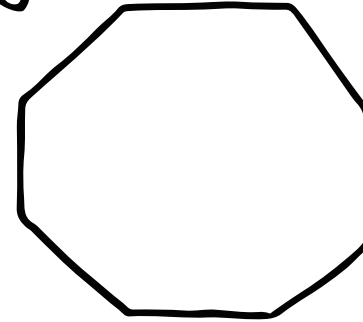
③



名 \_\_\_\_\_

和 \_\_\_\_\_

④



名 \_\_\_\_\_

和 \_\_\_\_\_

⑤ 十二角形の角の大きさの和はいくつかな?