



○ 算数 (整数と小数①)  □に入る数字を書こう!!

①  52.408

② の位


① ↑ ② ↑ ③ ↑ ④ ↑ ⑤ ↑

この数は、10を⑥

1を⑦、⑧を4


0.01を⑨、⑩を8

集めた数なんだよ!!

③  $79.013 = 10 \times \square + 1 \times \square + 0.1 \times \square$
 $+ 0.01 \times \square + 0.001 \times \square$

④ $1 \times 4 + 0.1 \times 0 + 0.01 \times 7 + 0.001 \times 8 = \square$

⑤ $10 \times 7 + 1 \times 0 + 0.01 \times 3 = \square$

⑥  ① ② ③ ⑤ ⑥ のカードを $\square \square . \square \square \square$
 右にあてはめて数を作ろう!

⑦ ⑭ いちばん大きい数は?

⑧ ⑮ 30にいちばん近い数は?

⑨ ⑯ いちばん小さい数は?