
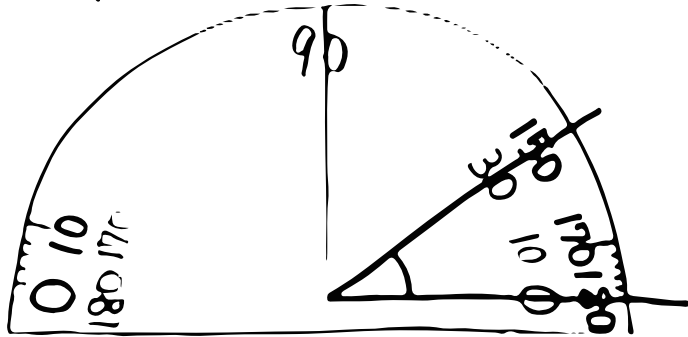


○ 算数 (角の大きさ②) ・分度器の使い方 ☹️ この角度は何度かな?

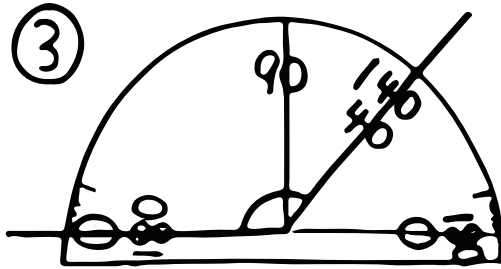
①



この角度をはかるなら...



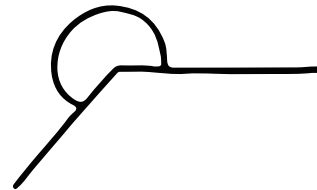
この場合、①色の数字を見ればいから、角度は②°!



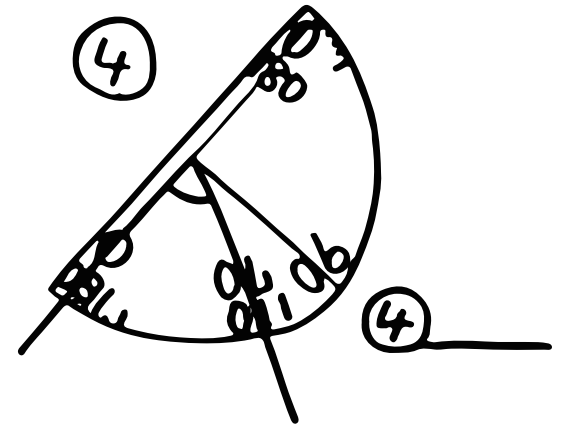
③ _____

☹️ どうやってはかる?


たし算



⑤の線(☒に書こう)をひいて、
⑥の角度(☒に)をはかると、
それに⑦°をたせばいい!



ひき算



⑧の角度(☒に)をはかると、⑨°からそれをひけばいい!!