

算数 (長方形と正方形の面積)

ホ

「これを覚えれば答えが出せるよ」という式を
① _____、というんだ。

長方形 = ② _____

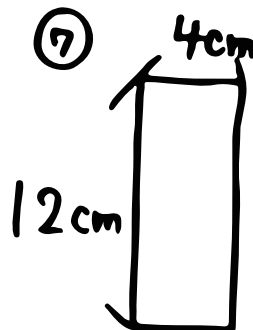
正方形 = ③ _____

面積をもとめよう!

④ たてが7cm、横が5cmの長方形

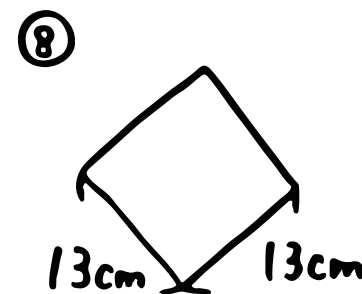
⑤ 1辺が9cmの正方形

⑥ たてが4cm、横が30mmの長方形

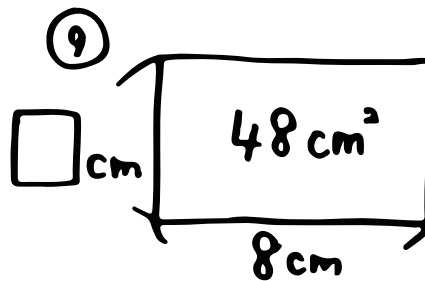


⑦

⑧

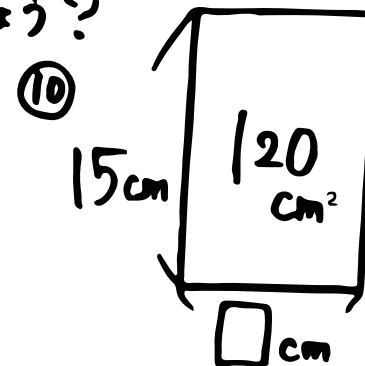


⑨ □はいくらでしょう?



⑨

⑩



面積が書いてあって
たてか横をきいたら
⑪ _____算を使うよ!