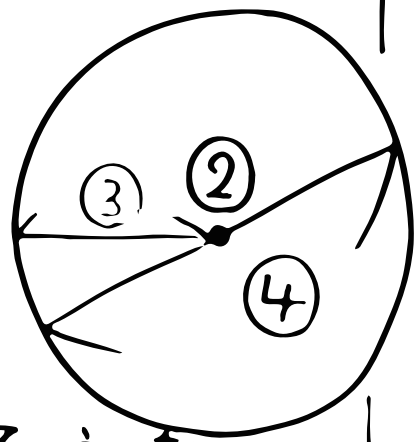



# 算数 (円について)

① このまるい形を  
① 〇 っていて、  
まん中の点を②  
赤い線を③  
青い線を④ 〇 っているんだ。

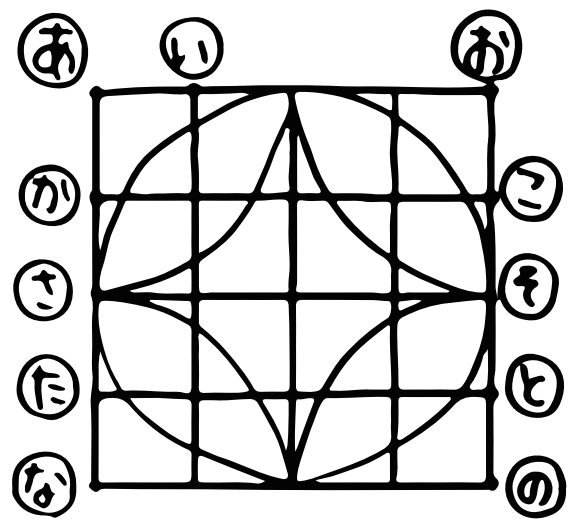


そして、④ の長さは③ の  
長さの⑤ になるよ!  
あと、この形を書くときに使うアイテム  
が⑥ で、はりを⑦ に  
さして書くんのだ!!

半径が6cmの円の直径は⑧ \_\_\_\_\_ cm。  
直径が8cmの円の半径は⑨ \_\_\_\_\_ cm。



青の円の半径は⑩ \_\_\_\_\_ cm。  
〃 直径は⑪ \_\_\_\_\_ cm。



⑫ 青の形を書くには、  
どこにはりをさした  
らいいかな?  
(答えは5こあるよ!)

