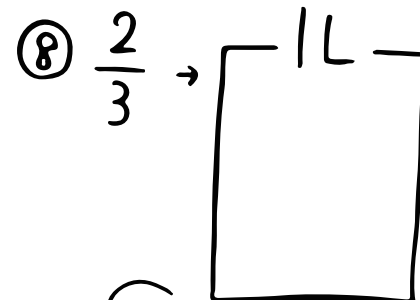
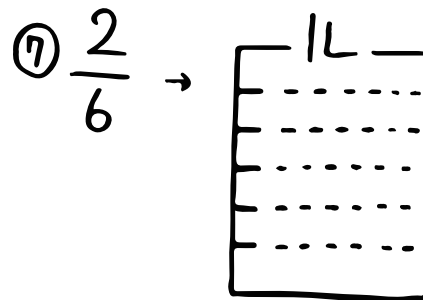



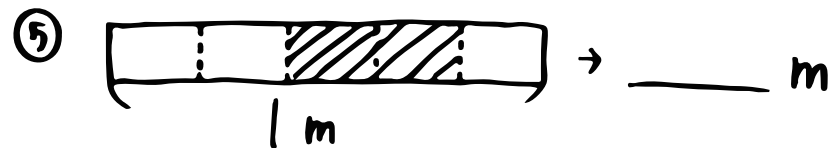
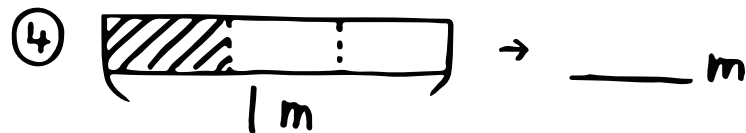
算数(分けた大きさの表し方①)

⑥ ここで勉強するのは $\frac{2}{5}$ みたいなやつで、
 こいつらは① _____、というんだ!
 ちなみに下の数のことを② _____
 上の数 .. を③ _____、というぜ!!

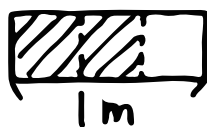
💡 今度はぬってみよう!!



💡 は何mかな?



おまけ



左の④で は④ _____ mで、

は を⑩ _____ に分だから

は⑩ _____ mになるんだ。

自分で
中の線も引いてごらん!

