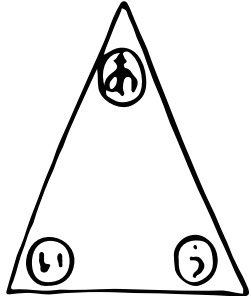


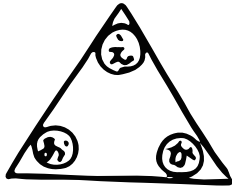
算数 (二等辺三角形と正三角形の角)

① 二等辺三角形



角の大きさが同じなのは ① _____

正三角形

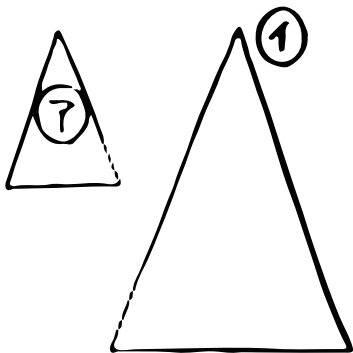


角の大きさが同じなのは ② _____

②の二等辺三角形を

③ _____ まいしつめると

①の二等辺三角形になるね!!



④ を半分において にします。

これをチョキチョキ切って開くとどんな形になる?

