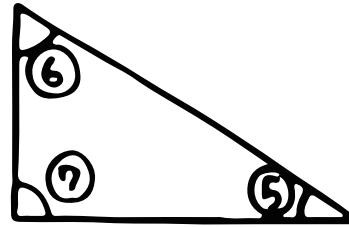


算数 (三角形と円)

① _____
 ② _____
 ③ _____


単位は 39° 、と書いて、「39ど」と読むよ。

三角定規の登場!!



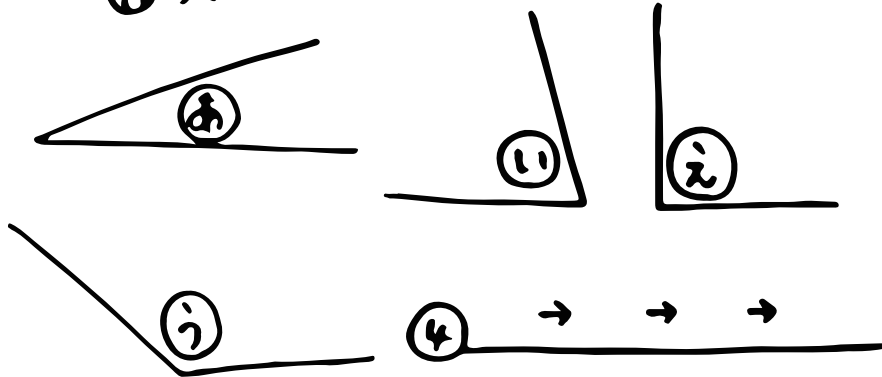
せ、かくだから
 大きさを
 あほえよう!

⑤ _____
 ⑥ _____
 ⑦ _____



⑧ _____
 ⑨ _____
 ⑩ _____

大きいじゅんばんにしよう!



直角になっているのは ⑩ と !
 ⑨ と同じ大きさなのは ⑫ !!
 ⑥ は ⑤ が ⑬ 半分で。
 ⑦ は ⑤ が ⑭ 半分です!!!