
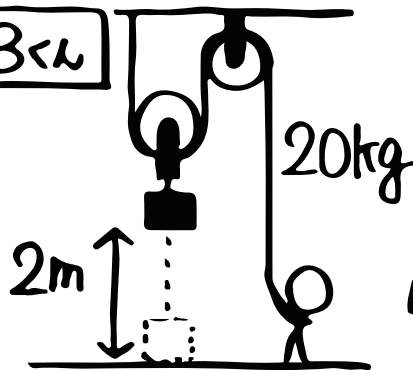


理科 (仕事とエネルギー③)

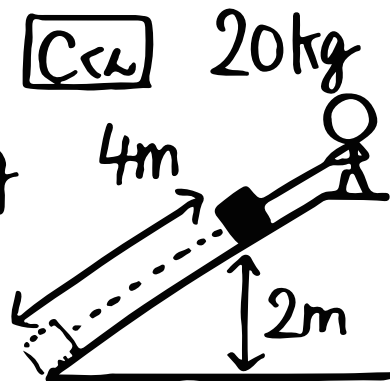
Aさん



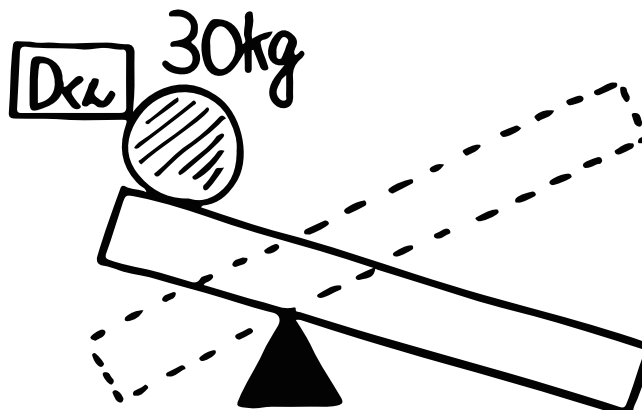
Bさん



Cさん



Dさん



A~Cの(引く力, 引く距離, 仕事)はそれぞれ
 A^① (, ,) B^② (, ,) C^③ (, ,)になる。

ひもを引く速さが0.5m/sとすると、それぞれの仕事率は、
 Aは④ _____ , Bは⑤ _____ , Cは⑥ _____ になる。

Dは、このてこを使うと、質量30kgの石を100Nの力で持ち上げることができた。
 だから、もしこの石を0.3m持ち上げたいなら、てこのはしを⑦ _____ m下げればいい。