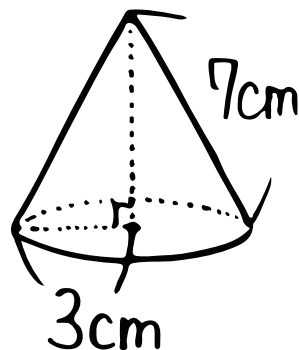


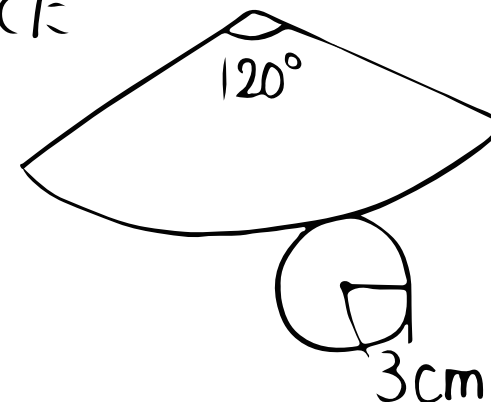
数学(三平方・空間図形への利用③・円錐編)

① 右の円錐の体積は?

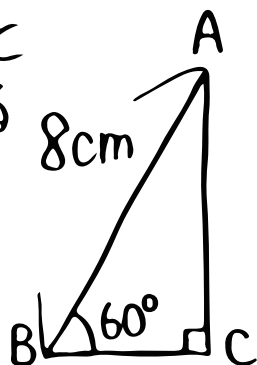


② 右の展開図を組み立てた
ときにできる立体に
ついてもとめよう!

③ 高さは何?



② 直線ACを回転の軸と
して一回転させてできる
立体の体積は?



④ 体積は?