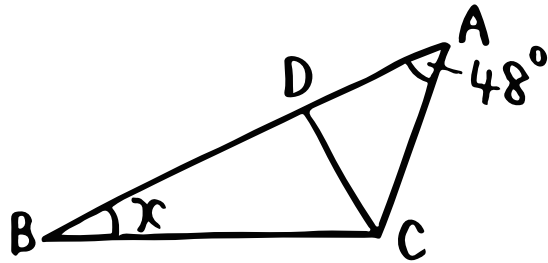


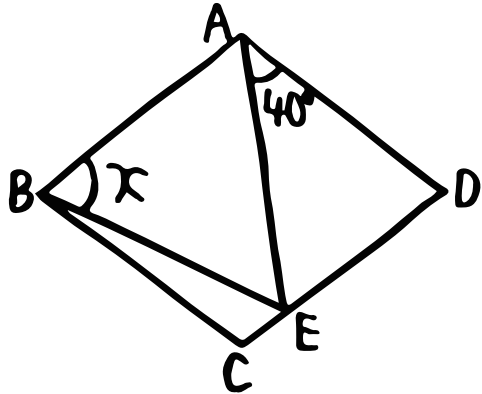
(テスト対策・中2・5章)

⑥ $\angle X$ の大きさを求めなさい。

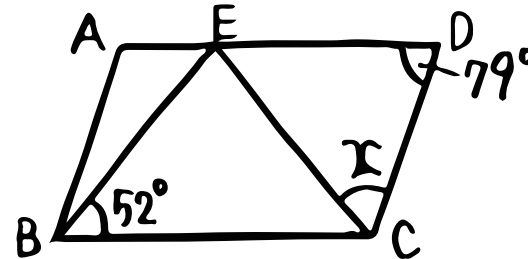
① $AD=CD$ 、 CD は $\angle ACB$ の二等分線



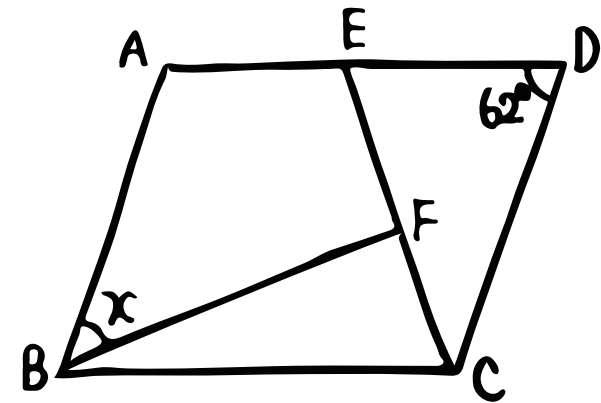
③ ABCD はひし形、 $AD=AE$



② ABCD は平行四辺形、 $BE=CE$



④ $CD=CE$
 $\angle BFC=90^\circ$



「④ ABCD は平行四辺形」を条件に追加して解いてください。