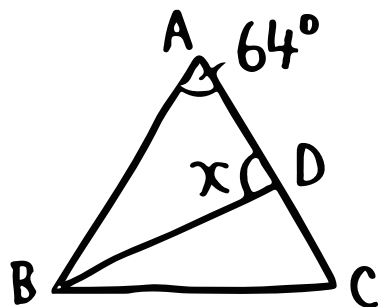


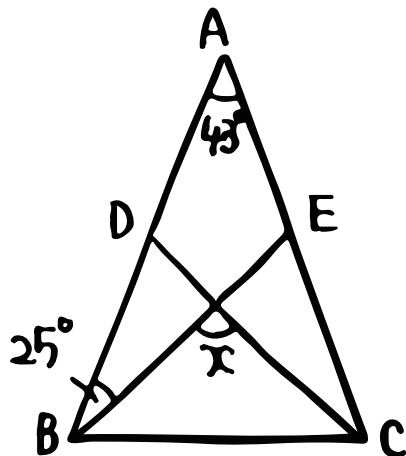
(テスト対策・中2・5章)

① ∠xの大きさを求めなさい。

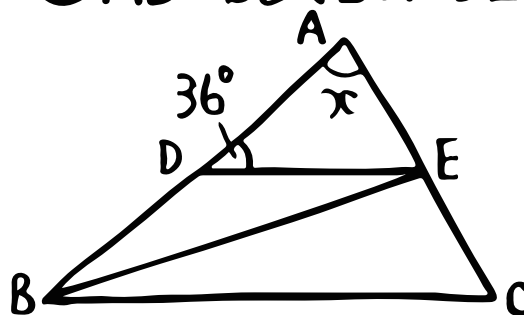
① $AB=AC$, BD は $\angle ABC$ の二等分線



③ $AB=AC$
 $AD=AE$



② $AD=BD$, $BC \parallel DE$, BE は $\angle ABC$ の二等分線



④ $AB=AC$
 $l \parallel m$

