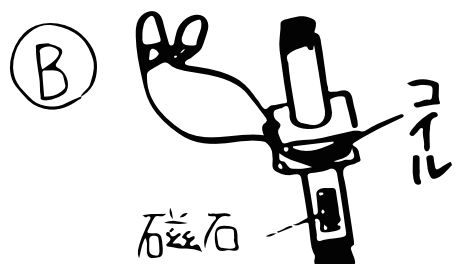
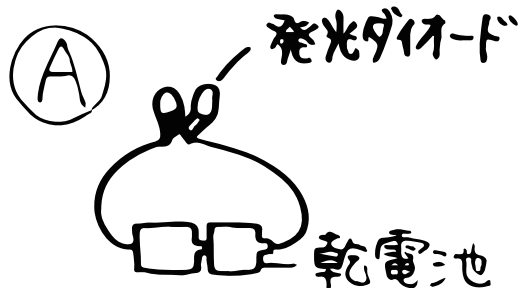




理科 (直流と交流)





① _____ の向きに流れるのを直流といい、
向きが② _____ に変化しているのを交流という。

左図の場合、③ _____ で④ _____ になる。
ちなみに、家のコンセントは⑤ _____ 。

この実験で  と光るのは⑥ _____ で、 となるのは⑦ _____ 。

ちなみにオシロスコープで電圧を調べると、

⑧ _____ は  、⑨ _____ は  となり、1秒あたりの波のくり返しの数を⑩ _____ といい、⑪ _____ (周期) という単位を使う。

家庭でよく使われるのは⑬ _____ で、その理由は、

⑬ _____ 、⑭ _____ などがある。