

数学 (球について)

① 体積 = _____

② 表面積 = _____

👉 体積と表面積をだそう!!

③ 半径6cmの球

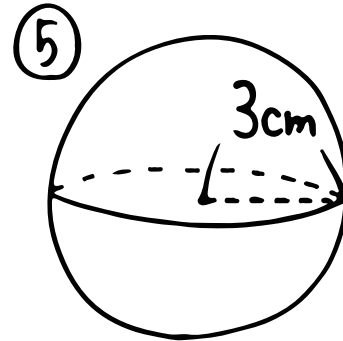
体

表

④ 直径4cmの球

体

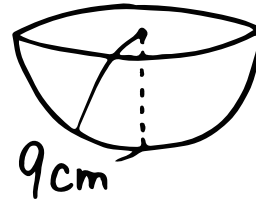
表



体

表

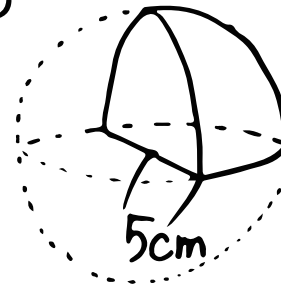
⑥



体

表

⑦



体

表