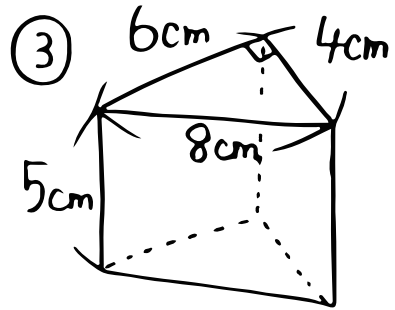
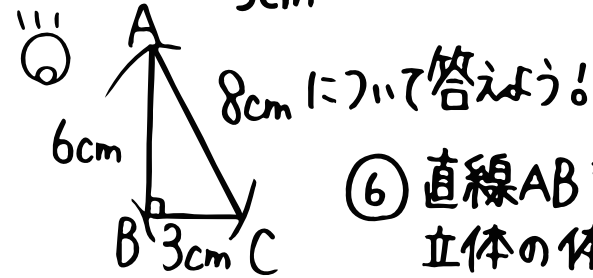
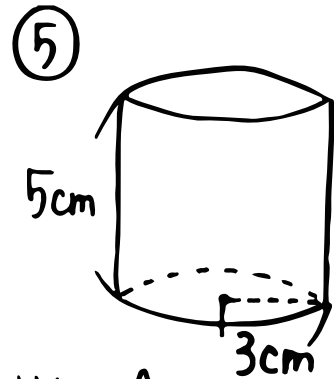
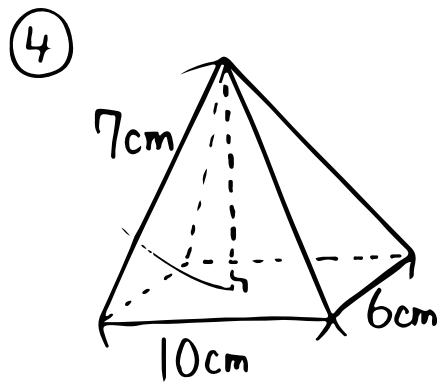


数学 (立体の体積)

① 柱の体積 = ① _____
 ② 錐の体積 = ② _____
 ③ 体積をだそう!!



8cm について答えよう!
 ⑥ 直線ABを軸として1回転させてできる
 立体の体積は?



⑦ 直線BCを " "
 " 体積は?