



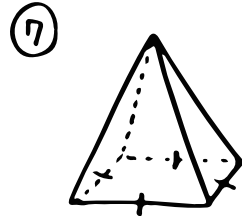
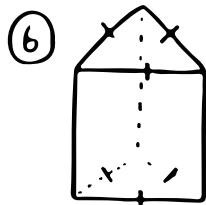
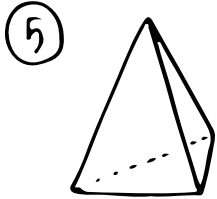
数学 (いろいろな立体)

① 赤の部分を①_____
 青の " を②_____
 ③を③_____
 という。



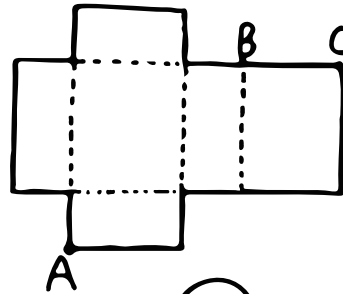
ちなみに、いくつかの
 平面で囲まれた立体を④_____
 という。

⑤ この立体の名前と①と②の名前は?

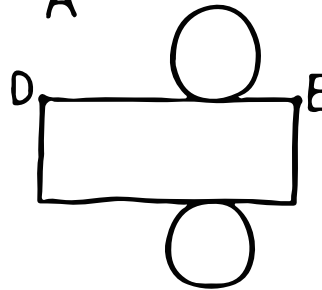


立体 _____
 ① _____
 ② _____

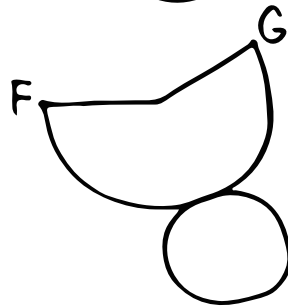
⑥ 次の展開図について答えよう。(重なる点と線は図に書こう!)



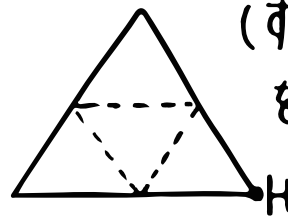
を組み立てると⑧_____
 ができて、
 点Aと重なるのは⑨(図に!)で
 辺BCと " ⑩ " になる。



を組み立てると⑩_____
 ができて
 辺DEと重なるのは⑫(")になる。



を組み立てると⑬_____
 ができて
 辺FGと重なるのは⑭(")になる。



(すべての辺の長さが同じです。)
 を組み立てると⑮_____
 ができて
 点Hと重なるのは⑯(")になる。